

Repérage : déplacement avec flèches (3) [1]

Exercice sur quadrillage vierge. Il s'agit de tracer un chemin à l'aide des étiquettes de flèches.

Titre affiché par défaut: Les documents adaptés pour déficients visuels

Discipline : Mathématiques

Niveau scolaire : Cycle 2

Date d'expiration: Dimanche, 30 Avril, 2017

Rubrique de la fiche SDADV: [Mathématiques](#) [2]

Sous-rubrique Niveau 1: [Espace et géométrie](#) [3]

Repérage : déplacement avec flèches (3)


→ une case vers la droite

← une case vers la gauche

↑ une case vers le haut


↓ une case vers le bas


Au départ de la case A1, trace un chemin à l'aide des flèches.



Vignette de la fiche:

Fichier relief :  [Quadrillage_flechesR3.pdf](#) [4]

Fichier couleur :  [Quadrillage_flechesR3.pdf](#) [5]

Fichier noir :  [Quadrillage_flechesN3.pdf](#) [6]

Classification ressources DA: [Ressources DA](#) [7]

Arborescence SDADV: [Espace et géométrie](#) [8]

Liens

[1] <https://www.inshea.fr/fr/content/rep%C3%A9rage-d%C3%A9placement-avec-fl%C3%A8ches-3>

[2] <https://www.inshea.fr/fr/rubrique-de-la-fiche-sdadv/math%C3%A9matiques>

[3] <https://www.inshea.fr/fr/sous-rubrique-de-la-fiche-sdadv/espace-et-g%C3%A9om%C3%A9trie>

[4] https://www.inshea.fr/sites/default/files/www/sites/default/files/downloads/fichiers-sdadv/Quadrillage_flechesR3.pdf

[5] https://www.inshea.fr/sites/default/files/www/sites/default/files/downloads/fichiers-sdadv/Quadrillage_flechesR3_0.pdf

[6] https://www.inshea.fr/sites/default/files/www/sites/default/files/downloads/fichiers-sdadv/Quadrillage_flechesN3.pdf

[7] <https://www.inshea.fr/fr/classification-ressources/ressources-da>

[8] <https://www.inshea.fr/fr/arborescence-des-documents-sdadv/espace-et-g%C3%A9om%C3%A9trie>